



ESTUDO EM CASA – DISTANCIAMENTO SOCIAL – COVID 19 ATIVIDADES DE GEOGRAFIA – 6º ANO A, B e C – 3 AULAS.

20ª SEMANA: DE 24/08/2020 a 28/08/2020

Profª. Elisângela e Talita

Orientações:

- Anote no caderno 3º bimestre e deixe sempre organizado.

- Leia o texto e realize a atividade no caderno.

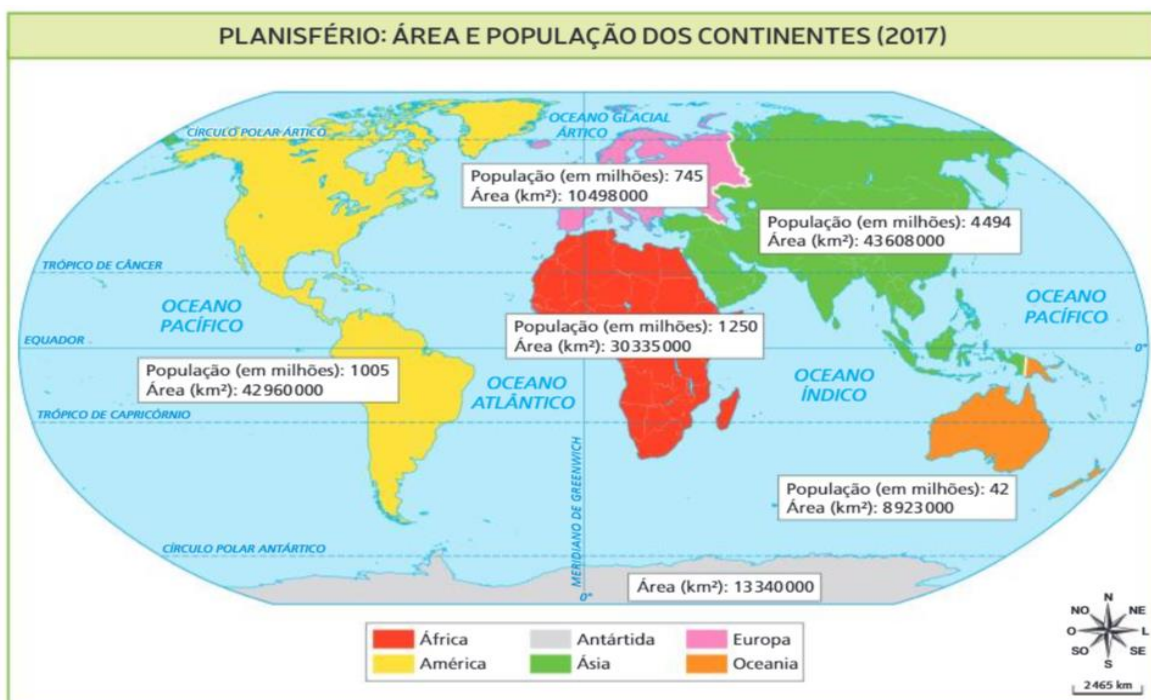
- Envie fotos das atividades no whatsapp particular até dia **28/08 Sexta-feira.**

Os continentes

Os **continentes** são porções de terras emersas cercadas de água por todos os lados e que, diferentemente das ilhas, possuem uma ampla extensão territorial. Os continentes também podem ser considerados como um agrupamento mais ou menos coeso de diversas terras, incluindo arquipélagos próximos entre si, como é o caso da Oceania.

Os continentes formaram-se no período Pré-cambriano, há cerca de 4,5 bilhões de anos, sobre as placas tectônicas, que inicialmente estavam agrupadas em uma imensa massa territorial, a Pangeia. O movimento milimétrico desses blocos de terra originou os atuais continentes.

Considera-se que o planeta Terra possui **seis continentes: América, África, Ásia, Europa, Oceania e Antártida.**





PREFEITURA MUNICIPAL DE RIBEIRÃO CORRENTE
DEPARTAMENTO DE EDUCAÇÃO
E.M.E.B. “JORNALISTA GRANDUQUE JOSÉ”

Rua Marechal Deodoro, 815 – Bairro Centro – Ribeirão Corrente - SP. CEP: 14445-000 - Fone: (16) 3749.1017
Ato de Criação: Lei Municipal Nº 986, de 20 de março de 2008
Email - granduquejose@educacao.sp.gov.br

A Ásia e a Europa juntas constituem a **Eurásia**, pois esses continentes não possuem um oceano que os divide, mesmo assim são considerados continentes independentes, distintos. Já a **América** é dividida em América do Norte, América Central e América do Sul.

O maior continente da Terra é a **Ásia**, que possui uma extensão territorial de 43,6 milhões de km², o equivalente a um terço de todas as terras emersas. A Ásia também detém a maior quantidade de habitantes e, ao mesmo tempo, as maiores densidades demográficas, com os chamados “formigueiros humanos em algumas áreas da China, da Índia, do Paquistão e da Indochina. Essas localidades e suas regiões adjacentes abrigam mais pessoas do que todo o restante do planeta.

O menor dos continentes da Terra é a **Oceania** – que também é chamada de continente australiano pelo fato de a **Austrália** ser o único país desse continente que não é considerado ilha. Sua extensão é de, aproximadamente, 8,5 milhões de km². O segundo menor é a **Europa**, com pouco mais de 10 milhões de km².

O continente Americano

Em termos de **localização**, a América encontra-se em três hemisférios diferentes ao mesmo tempo: o Norte, o Sul e o Oeste, sendo cortado pela Linha do Equador, pelo Trópico de Câncer e pelo Trópico de Capricórnio, sendo o único continente a se situar em todas as zonas térmicas da Terra.

América do Norte possui apenas três países: Canadá, Estados Unidos e México.

América do Sul possui doze países: Argentina, Bolívia, Brasil, Chile, Colômbia, Equador, Guiana, Paraguai, Peru, Suriname, Uruguai e Venezuela.

América Central possui vinte países: Antígua e Barbuda, Bahamas, Barbados, Belize, Costa Rica, Cuba, Dominica, El Salvador, Granada, Guatemala, Haiti, Honduras, Jamaica, Nicarágua, Panamá, República Dominicana, Santa Lúcia, São Cristóvão e Névis, São Vicente e Granadinas, Trinidad e Tobago.





PREFEITURA MUNICIPAL DE RIBEIRÃO CORRENTE
DEPARTAMENTO DE EDUCAÇÃO
E.M.E.B. "JORNALISTA GRANDUQUE JOSÉ"

Rua Marechal Deodoro, 815 – Bairro Centro – Ribeirão Corrente - SP. CEP: 14445-000 - Fone: (16) 3749.1017
Ato de Criação: Lei Municipal Nº 986, de 20 de março de 2008
Email - granduquejose@educacao.sp.gov.br

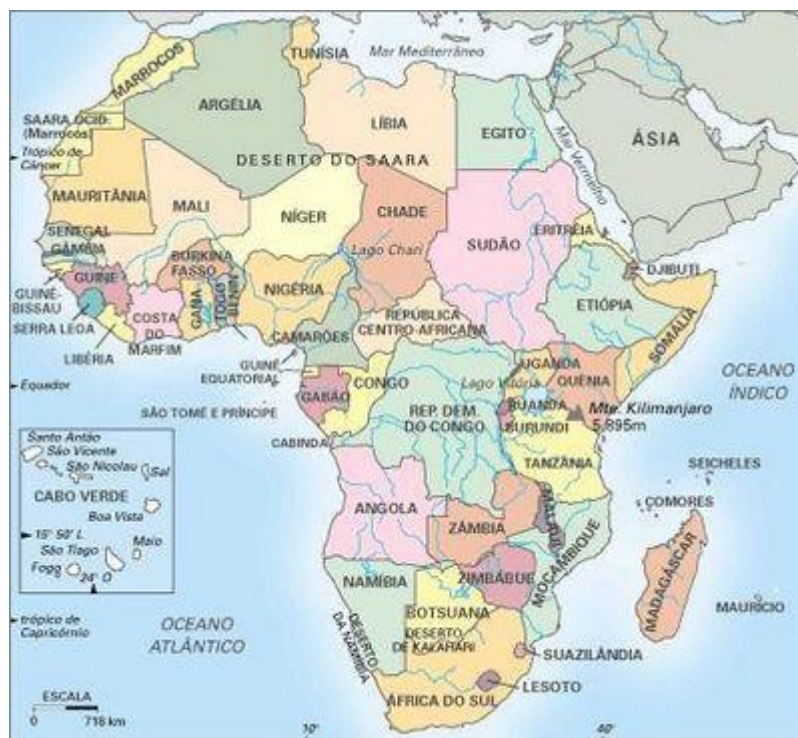
O continente americano possui a maior extensão latitudinal do mundo, ocupando, praticamente, todas as faixas de norte a sul. Essa distribuição permite que o continente experimente todas as variações climáticas do planeta, desde as camadas mais quentes da região equatorial às zonas temperadas e camadas polares. Do mesmo modo, observam-se as mais variadas expressões de vegetação, solo e relevo.

A **população** é estimada em 1 bilhão de habitantes, distribuídos em 35 países e 16 territórios. Sua posição geográfica isola-o completamente de outro continente: a oeste, pelo Oceano Pacífico; a leste, pelo Oceano Atlântico.

Falando em **relevo**, a estrutura física da América apresenta duas grandes cadeias de montanhas, uma localizada ao Norte, chamada de *Montanhas Rochosas*, e outra localizada ao Sul, chamada de *Cordilheira dos Andes*, ambas localizadas na parte oeste do continente e originadas pelo contato entre placas tectônicas.

No campo **econômico**, registram-se na América grandes índices de desigualdade. Os países que fazem parte da América do Norte são os únicos desenvolvidos do continente, apresentando a maior parte do Produto Interno Bruto deste. Além disso, alguns países como Brasil, México, Argentina e Uruguai são considerados nações emergentes. Os demais são classificados como subdesenvolvidos.

O continente Africano



O **continente africano** é o terceiro maior do mundo. É banhado a leste pelo Oceano Atlântico e a Oeste pelo Oceano Índico. Ao norte, é separado do continente europeu pelo Mar Mediterrâneo; e a nordeste, é separado da Ásia pelo Mar Vermelho e pelo Canal do Suez, localizado no Egito.



PREFEITURA MUNICIPAL DE RIBEIRÃO CORRENTE
DEPARTAMENTO DE EDUCAÇÃO
E.M.E.B. "JORNALISTA GRANDUQUE JOSÉ"

Rua Marechal Deodoro, 815 – Bairro Centro – Ribeirão Corrente - SP. CEP: 14445-000 - Fone: (16) 3749.1017
Ato de Criação: Lei Municipal Nº 986, de 20 de março de 2008
Email - granduquejose@educacao.sp.gov.br

Muitas pessoas conhecem a África pela sua extrema pobreza e miséria, porém poucos sabem o porquê disso. Segundo a ONU (Organização das Nações Unidas), dos países considerados com o IDH (Índice de Desenvolvimento Humano) baixo, todos eles são africanos. Essa situação foi causada, principalmente, pela exploração colonial e imperialista que ocorreu nesses países.

O **relevo** do continente africano é marcado pela presença de dois grandes desertos: o *Deserto do Saara* e o *Deserto do Kalahari*. O primeiro encontra-se na região norte do país e o segundo encontra-se mais ao sul. Na região central e ao norte, encontram-se grandes rios que estão entre os maiores do mundo, como os rios Nilo, Congo e Níger.



Em relação à **vegetação**, existem diversos tipos, como plantas desérticas, florestas equatoriais e estepes. No entanto, o tipo mais presente são as *savanas*, que são muito semelhantes à vegetação do Cerrado brasileiro, com árvores de médio e pequeno porte com galhos muito retorcidos.

A África é dividida em duas regiões principais: **África Subsaariana** e **África do Norte**. A primeira compreende toda a região desse continente que se encontra abaixo do deserto do Saara, caracterizada pela população de maioria negra e pela maior diversidade étnica. A segunda encontra-se mais ao norte e compreende as populações africanas árabes.



Atividades

1. O mapa-múndi a seguir apresenta todos os continentes destacados em cores diferentes. Cite o continente referente a cada cor no mapa-múndi em questão.





PREFEITURA MUNICIPAL DE RIBEIRÃO CORRENTE
DEPARTAMENTO DE EDUCAÇÃO

E.M.E.B. "JORNALISTA GRANDUQUE JOSÉ"

Rua Marechal Deodoro, 815 – Bairro Centro – Ribeirão Corrente - SP. CEP: 14445-000 - Fone: (16) 3749.1017

Ato de Criação: Lei Municipal Nº 986, de 20 de março de 2008

Email - granduquejose@educacao.sp.gov.br

- a) Vermelho _____ b) Amarelo _____
c) Preto _____ d) Verde _____
e) Azul _____ f) Cinza _____

2. Leia as afirmações e escreva se são características do continente Americano ou do continente Africano.

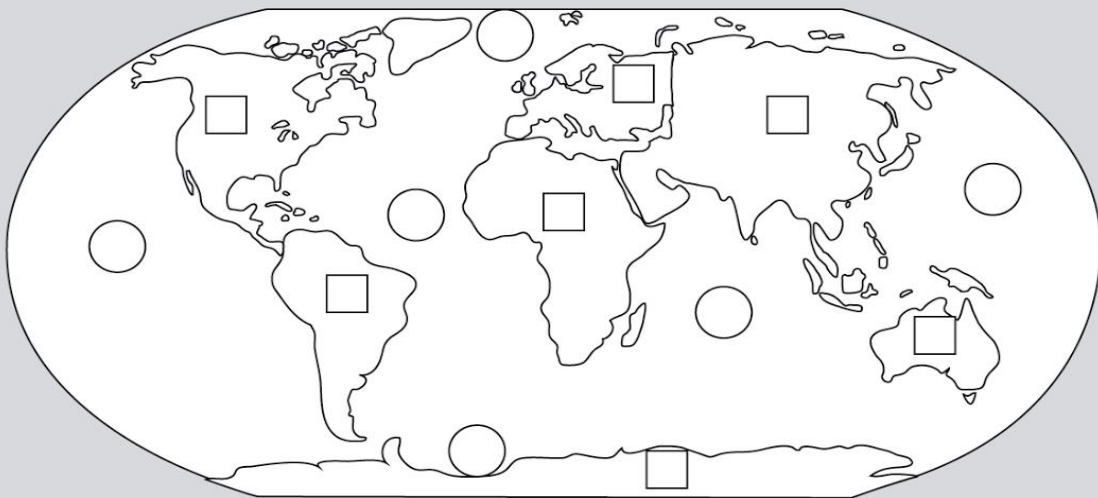
- a) Em termos de **localização**, encontra-se em três hemisférios diferentes ao mesmo tempo: o Norte, o Sul e o Oeste, sendo cortado pela Linha do Equador, pelo Trópico de Câncer e pelo Trópico de Capricórnio, sendo o único continente a se situar em todas as zonas térmicas da Terra: _____.
- b) Possui a maior extensão latitudinal do mundo, ocupando, praticamente, todas as faixas de norte a sul: _____.
- c) Possui 35 países e 16 territórios _____.
- d) Apresenta duas grandes cadeias de montanhas, uma localizada ao Norte, chamada de *Montanhas Rochosas*, e outra localizada ao Sul, chamada de *Cordilheira dos Andes*, ambas localizadas na parte oeste do continente e originadas pelo contato entre placas tectônicas: _____.
- e) É o terceiro maior do mundo: _____.
- f) A nordeste, é separado da Ásia pelo Mar Vermelho e pelo Canal do Suez, localizado no Egito: _____.
- g) Presença de dois grandes desertos: o *Deserto do Saara* e o *Deserto do Kalahari*:
_____.
- h) Em relação à vegetação, existem diversos tipos, como plantas desérticas, florestas equatoriais e estepes. No entanto, o tipo mais presente são as *savanas*, que são muito semelhantes à vegetação do Cerrado brasileiro, com árvores de médio e pequeno porte com galhos muito retorcidos: _____.



PREFEITURA MUNICIPAL DE RIBEIRÃO CORRENTE
DEPARTAMENTO DE EDUCAÇÃO
E.M.E.B. "JORNALISTA GRANDUQUE JOSÉ"

Rua Marechal Deodoro, 815 – Bairro Centro – Ribeirão Corrente - SP. CEP: 14445-000 - Fone: (16) 3749.1017
Ato de Criação: Lei Municipal Nº 986, de 20 de março de 2008
Email - granduquejose@educacao.sp.gov.br

RELACIONE CONTINENTES - OCEANOS



CONTINENTES

- 1 ÁSIA
- 2 EUROPA
- 3 ÁFRICA
- 4 OCEANIA
- 5 AMÉRICA DO NORTE
- 6 AMÉRICA DO SUL
- 7 ANTÁRTICA

OCEANOS

- 1 OCEANO ÁRTICO
- 2 OCEANO ATLÂNTICO
- 3 OCEANO PACÍFICO
- 4 OCEANO ÍNDICO
- 5 OCEANO ÁRTICO